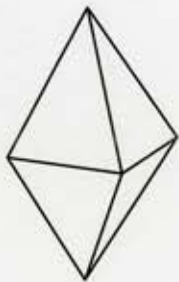


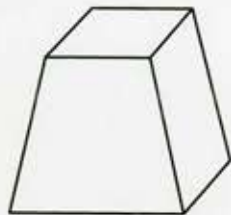
形⑧のてんかい図を見ると、三角形と台形の組み合わせです。
 三角形は、直角二等辺三角形が2つ、正三角形が2つです。4つの台形は
 すべて同じ形です。

下のA~Dのどれになるかを予想してから、組み立てましょう。

A



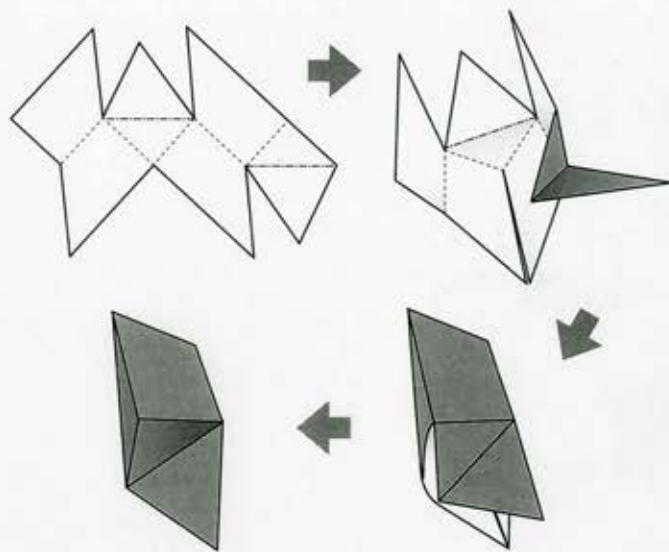
B



C



D



58ページの答え

D

このてんかい図は中学校の入試問題に出題されたものです。出題内容は、このてんかい図を見て、立体の体積を求めるものでした。

組み立ててみると、この立体は立方体1つと、三角すい2つでできていることがわかります。

