

55 目

1つだけ、ほかとちがうのはどれかな？

こたえ



56 目

左の絵にあって、右の絵にないのはどれかな？



こたえ

57 目

4まいの絵を見てね。いちばん前にいるのはどれかな？

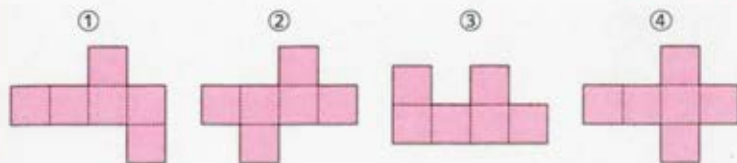


こたえ

58 目

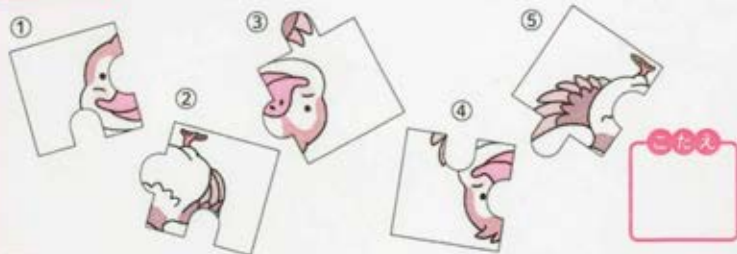
点線でおったとき、サイコロのかたちにならないのはどれかな？

こたえ



59 目


パズルをかんせいさせたとき、あまるのはどれかな？



こたえ

60 目

1つだけ、なかまではないのはどれかな？



こたえ

20
ページの
解答

49 目

④

50 目

②



51 目

③と④

21
ページの
解答

52 目

④

53 目

⑥

54 目

②と④