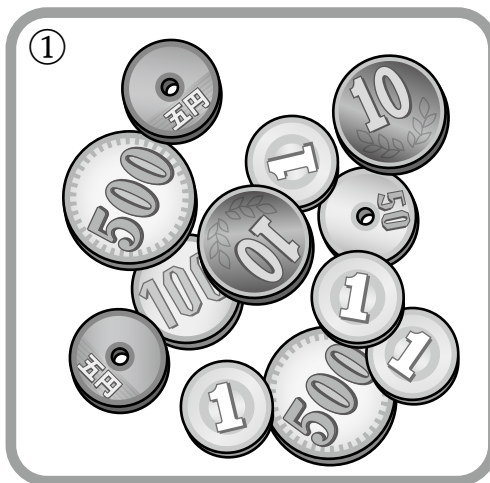


193
日目


この解答は106ページ

コイン計算

それぞれのコインの合計を計算してください。①と②どちらの金額が多いでしょう？



_____円



_____円

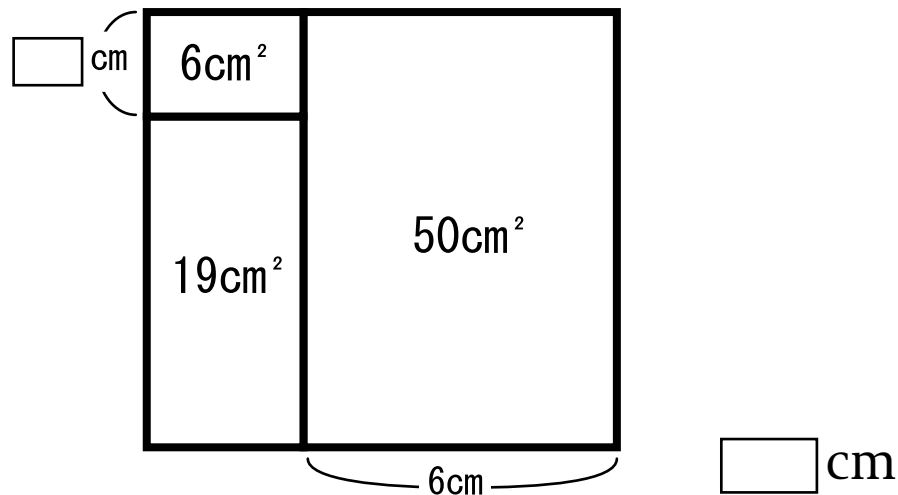
月
日

194
日目

この解答は199ページ

面積計算

面積は「縦の長さ×横の長さ」で求めることができます。明らかになっている数字をヒントに、□に入る数字を教えてください。



_____cm

月
日

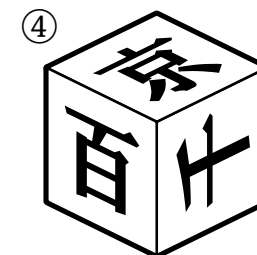
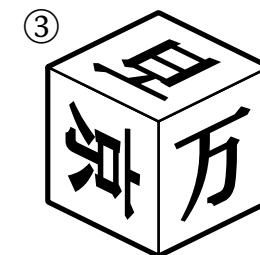
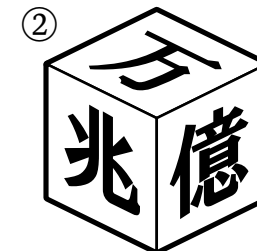
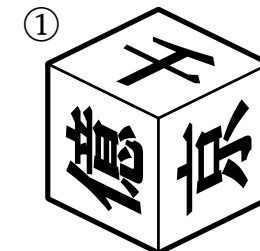
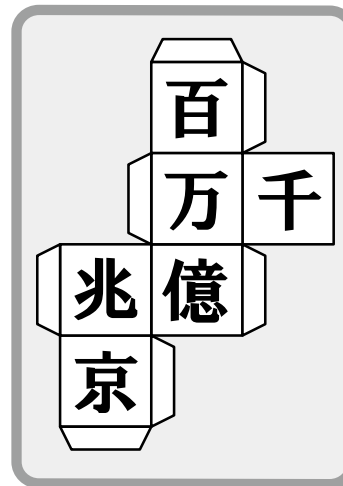
195
日目

この解答は107ページ

立方体の展開図

【見本】の展開図を組み立てたときにできる立方体として正しいものは、①～④のうちどれでしょう？

【見本】



月
日





196
日目

この解答は107ページ


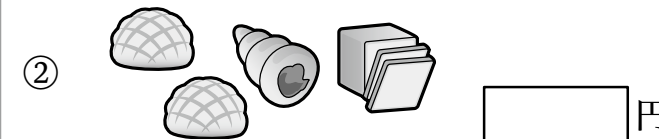
お買い物計算

【1個あたり】の値段をもとに、お買いものの合計金額を計算してください。

【1個あたり】

	
110円	180円
	
230円	320円

※いずれも税込価格



月
日